

## TEKMOVANJE RAČUNANJE JE IGRA

ZARADI POSEBNE SITUACIJE - VIRUSA, LETOS  
TEKMOVANJE RAČUNANJE JE IGRA ODPADE.

Časopis RAČUNANJE JE IGRA  
(izhaja kot priloga delovnega zvezka)

Izdaja: Antus, Jesenice

Sestavila: Sonja Osterman

Ilustracije: Magda Češek

Rešene nagradne kupone fotografirajte s telefonom in pošljite po elektronski pošti, do 15. maja, na naslov [ri2@antus.si](mailto:ri2@antus.si).

Izžrebali bomo 25 pravilno rešenih kuponov. Nagrajenci bodo prejeli šolske potrebščine, hobi materiale ali konstrukcijske zbirke fischertechnik. Nagrade bomo poslali po pošti na šole, obvestila pa po elektronski pošti. Izide bomo objavili tudi na internetu, na naslovu [antus.si](http://antus.si).

[www.antus.si](http://www.antus.si)

### INTERNET STRANI ZA USTVARJALNE

- ▶ Materiali in pripomočki za ustvarjanje
- ▶ Ideje
- ▶ Navodila za uporabo
- ▶ Tehnične igrače **fischertechnik**
- ▶ Škrobnji valjčki **fischerTIP**

Antus

[www.fischertechnik.si](http://www.fischertechnik.si)

### NAGRADNI KUPON Z REŠITVAMI

#### 8. NALOGA

2 ↓									
-----	--	--	--	--	--	--	--	--	--

#### 9. NALOGA

50		100	
60	85		15
		96	
80			35
	82	92	

#### 7. NALOGA

3 →	2 ↓	4 →	3 ↓	2 →	5 ↑	2 →
-----	-----	-----	-----	-----	-----	-----

# Računanje je igra 2

Časopis za zabavno računanje

2. RAZRED

št. 2, leto 2019/20

### Lep pozdrav!

Pred nami je spet najbolj cvetoč mesec v letu.

Rožice cvetijo, ptički žvrgolijo. Veselite se še vi, saj nam maj prinese toliko lepega. Ne pozabite rešiti majskih nalog v tem časopisu in poslati nagradni kupon.

### PONAVLJAMO, UTRJUJEMO (pripravljamo se za tekmovanje).



Izračunaj račune in po vrsti poveži rezultate.

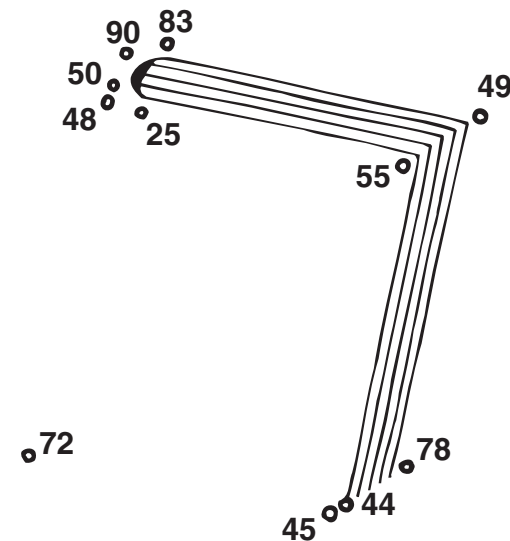
- $67 - 23 = \square$
- $32 + 46 = \square$
- $46 + 3 = \square$
- $89 - 6 = \square$
- $30 + 60 = \square$
- $100 - 50 = \square$
- $87 - 62 = \square$

8.  $23 + 32 = \square$

9.  $88 - 43 = \square$

10.  $63 + 9 = \square$

11.  $56 - 8 = \square$





Reši nalogo. Pobarvaj polja s pravilnimi rezultati.

Na polici je 67 skodelic čaja. Otroci so popili 25 skodelic čaja, vsak 1 skodelico. Koliko skodelic čaja je še ostalo?

RAČUN: \_\_\_\_\_

ODGOVOR: OSTALO JE

SKODELIC ČAJA.

Pred prazniki vsi pospravljajo. Mama ne pomiva tal. Janez pospravlja sobo. Alenka ne briše prahu. Oče pomiva posodo. Kdo briše prah?

ODGOVOR:



Koliko je bilo otrok?

Ali lahko vsak otrok dobi tri skodelice čaja?

DA, ker \_\_\_\_\_

NE, ker \_\_\_\_\_

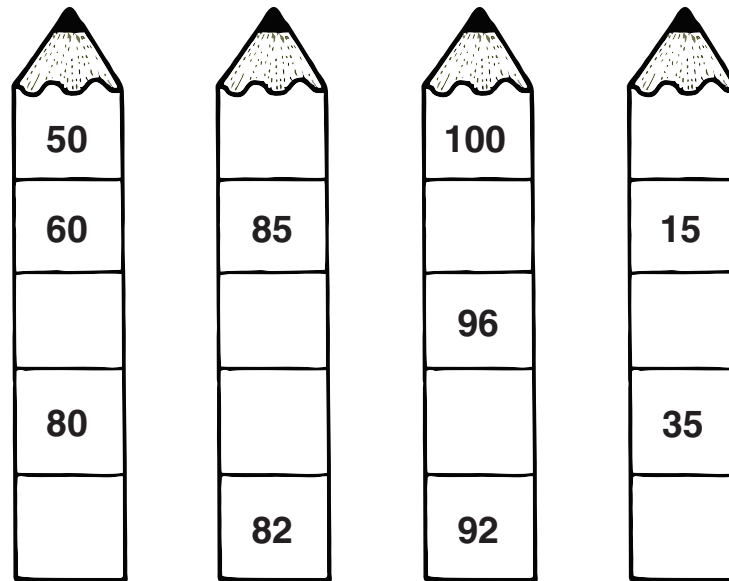
Na dvorišču sta dve mački, pes in pet kokoši. Koliko nog imajo vse živali skupaj?

RAČUN:

ODGOVOR: \_\_\_\_\_

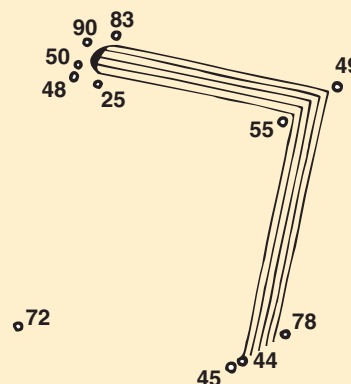


Dopolni svničnike s števili.

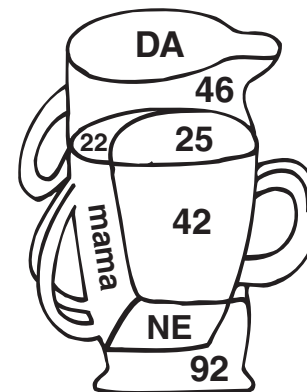


NAGRADNI KUPON Z REŠITVAMI

1. NALOGA



2. NALOGA



UČENEC NASLOV ŠOLE

IME IN PRIMEK: \_\_\_\_\_

POŠTA:

OSNOVNA ŠOLA: \_\_\_\_\_


3. NALOGA

Babica je Niku prinesla .

2. \_\_\_\_\_



Skleni črto tako, da bo znotraj črte ena hiša manj kot zunaj in da bosta zunaj črte dve drevesi več kot znotraj.



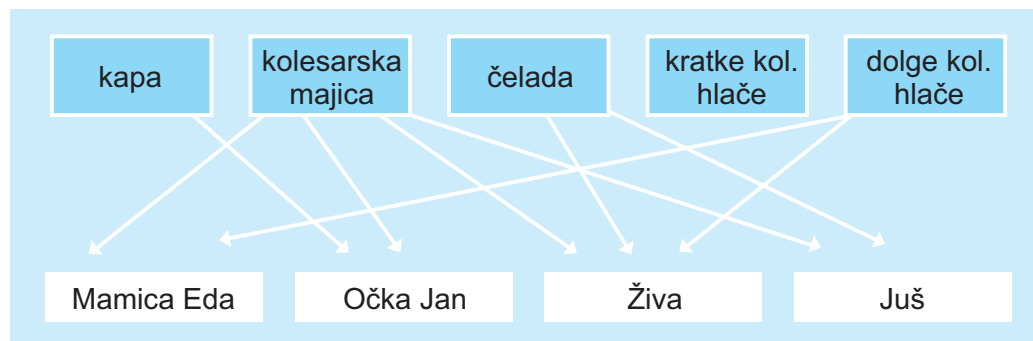
Nik je zaupal prijateljem: "Babica mi ni prinesla niti sladkarij, niti igrač." Kaj je babica prinesla Niku?

	JE SLADKARIJA	NI SLADKARIJA
JE IGRAČA		
NI IGRAČA		

Babica je Niku prinesla \_\_\_\_\_.



Mamica Eda, očka Jan, Živa in Juš so šli na kolesarski izlet. Kako so se oblekli?



Kaj nosi Živa? \_\_\_\_\_

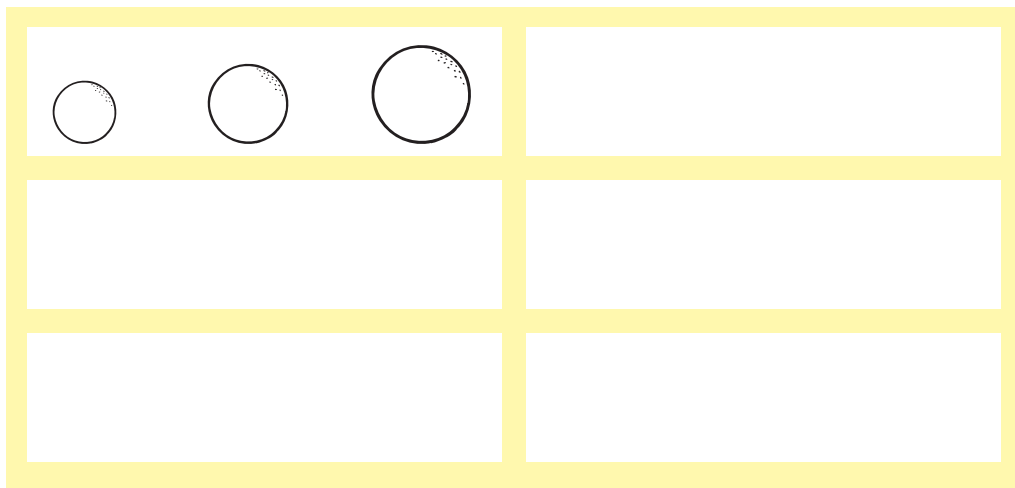
Kaj je oblekel očka Jan? \_\_\_\_\_

Ali imata oba otroka čelado? \_\_\_\_\_

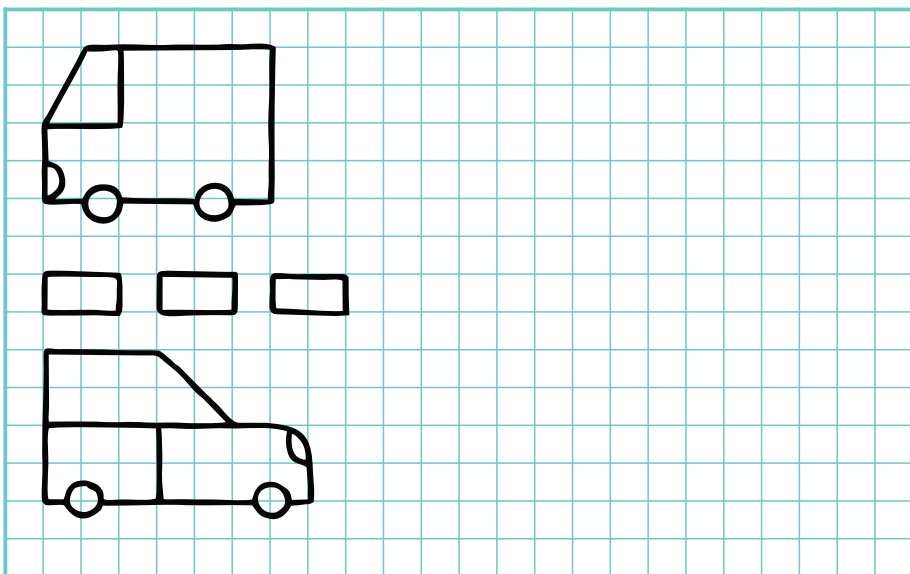
Kdo nosi dolge hlače? \_\_\_\_\_




Razvrsti žoge na vse možne načine.



Nadaljuj risbo po svoji zamisli.  
Riši prostoročno.



Pomagaj Ajdi najti nahrbtnik.



Napiši, kako je potoval Maj.

